
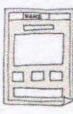


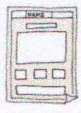





Liebe Kinder der Klasse 2b,
 ich hoffe, dass es euch und euren Familien gut geht.
 Da wir uns in dieser Woche leider nicht in der Schule sehen können,
 habe ich einige Aufgaben für euch zusammengestellt.
 Unseren Motto- Tag möchte ich mit euch nach den Ferien weiter
 planen und auch durchführen.
 Ich wünsche euch schöne Ferien und freue mich euch gesund
 wiederzusehen!

Eure Frau Köster

Wochenplan vom 31.01 - 04.02. 2022			
Deutsch		Mimi Beende Seite 64! Schreibe in dein kleines Heft! Kontrolliere die Mimi auf Vollständigkeit!	✓
		ABC - Profi Bearbeite das Arbeitsblatt! Tipp: Im Arbeitsheft findest du auf Seite 15 das ABC.	
		Nomen ordnen Bearbeite das Arbeitsblatt!	
		Mein Lieblingsbuch Wähle ein Buch aus! Ergänze das Arbeitsblatt!	
Mathematik		Geometrie Arbeite weiter in deinem Geometrieheft! Wähle dir 3 Seiten aus!	
		AB: Rechnen auf Zeit Rechne die Aufgaben im Kopf! Stoppe die Zeit!	
		AB: Zahlenstrahl Trage die fehlenden Zahlen ein!	
		Bearbeite diese Themen: Orientierung und Lagebeziehung Flächen kennenlernen Bauen mit Würfeln	
TÜ		Nase vorn (Mathe) Arbeite tägliche 10 Minuten in einem der Hefte!	
		Nase vorn (Deutsch) und Lies mal Arbeite tägliche 10 Minuten in einem der Hefte!	

Name: _____

ABC - Profi

① Welche zwei Buchstaben fehlen? _____

A B C D E G H I J K
L M N
O P Q R S T U W X
Y Z

② Finde die Vorgänger - und Nachfolger - Buchstaben.

G	
	P
T	
B	
	W

	J
	L
D	
	H
Q	

③ Welche Buchstaben werden gesucht?

Welcher ist der erste Buchstabe im ABC? _____

Welcher Buchstabe kommt nach dem D? _____

Welcher Buchstabe kommt vor dem H? _____

Nenne die vier letzten Buchstaben im ABC! _____

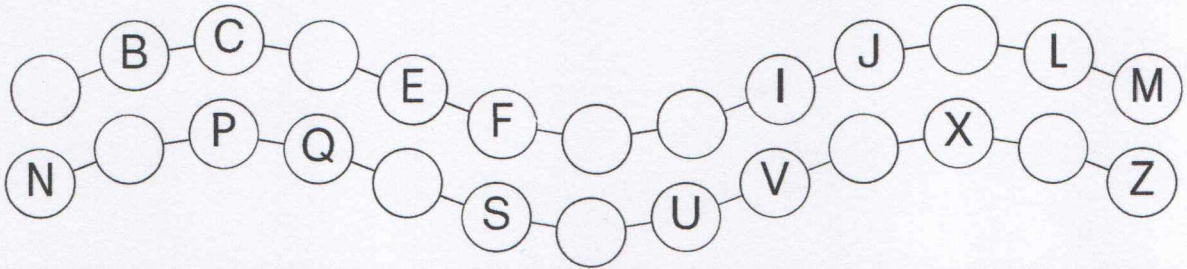
Suche alle Selbstlaute heraus! _____

Welchen Buchstaben schreibst du am liebsten? _____

Name: _____

Nomen ordnen

1 Ergänze die fehlenden Buchstaben im ABC!



2 Ordne die Wörter nach dem ABC!


Tafel, Zitrone, Nashorn, Palme

Zusatz: Herbst, Hund, Hase, Honig


3 Schreibe die Wörter richtig auf! Ordne sie nach dem ABC!



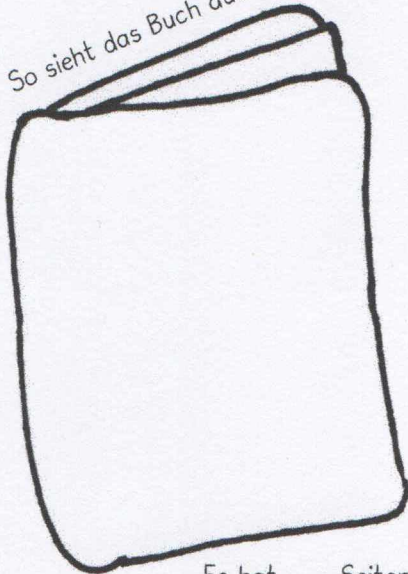
Käfer



Buchtipps von



So sieht das Buch aus:



Es hat ____ Seiten.

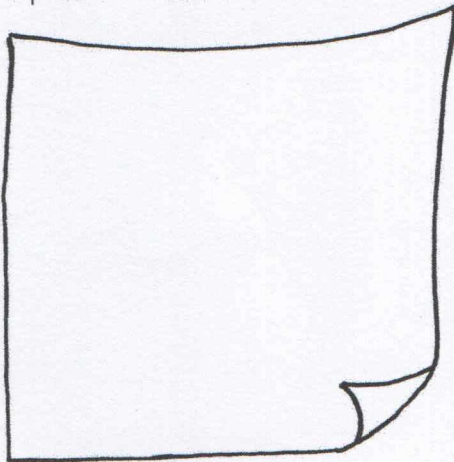
Das Buch heißt:

Das Buch wurde geschrieben von:

Male aus, worum es in deinem Buch geht:

 Freundschaft	 Tiere	 Fantasie	<input type="text"/>
 Wissen	 Abenteuer	 Detektiv	<input type="text"/>

Das passiert im Buch:



Sie/er ist...

Meine Lieblingscharakter:

Name


Ich gebe dem Buch , weil

Wer spielt noch mit?

Ich lese euch jetzt noch eine besondere Stelle vor...

Name: _____

Rechnen auf Zeit



$59 - 36 = \underline{\quad}$

$86 + 12 = \underline{\quad}$

$100 - 60 = \underline{\quad}$

$12 + 23 = \underline{\quad}$

$60 - 30 = \underline{\quad}$

$28 + 31 = \underline{\quad}$

$44 + 56 = \underline{\quad}$

$80 - 30 = \underline{\quad}$

$83 + 16 = \underline{\quad}$

$70 - 20 = \underline{\quad}$

$10 + 7 = \underline{\quad}$

$97 - 36 = \underline{\quad}$

$70 + 3 = \underline{\quad}$

$94 - 22 = \underline{\quad}$

$50 + 25 = \underline{\quad}$

$92 - 91 = \underline{\quad}$

$28 + 70 = \underline{\quad}$

$78 - 68 = \underline{\quad}$

$65 + 4 = \underline{\quad}$

$69 - 1 = \underline{\quad}$

$71 - 60 = \underline{\quad}$

$5 + 1 = \underline{\quad}$

$95 - 5 = \underline{\quad}$

$77 + 2 = \underline{\quad}$

$79 - 19 = \underline{\quad}$

$31 + 37 = \underline{\quad}$

$77 - 74 = \underline{\quad}$

$27 + 50 = \underline{\quad}$

$65 - 40 = \underline{\quad}$

$15 + 62 = \underline{\quad}$

$37 + 51 = \underline{\quad}$

$57 - 40 = \underline{\quad}$

$51 - 16 = \underline{\quad}$

$15 + 69 = \underline{\quad}$

$68 - 29 = \underline{\quad}$

$76 + 6 = \underline{\quad}$

$34 + 28 = \underline{\quad}$

$86 - 8 = \underline{\quad}$

$3 + 68 = \underline{\quad}$

$77 - 69 = \underline{\quad}$

$53 + 28 = \underline{\quad}$

$97 - 89 = \underline{\quad}$

$62 - 6 = \underline{\quad}$

$49 + 25 = \underline{\quad}$

$53 - 48 = \underline{\quad}$

$39 + 12 = \underline{\quad}$

$84 - 58 = \underline{\quad}$

$58 + 16 = \underline{\quad}$

benötigte Zeit:

Anzahl richtiger Aufgaben:

Name: _____

Zahlenstrahl

